



**ADE**

**AVALIAÇÃO DESEMPENHO EDUCACIONAL**

NOME:

3º ANO:

PROFESSORA:

**AVALIANDO A ALFABETIZAÇÃO EM MATEMÁTICA**


**SECRETARIA MUNICIPAL DE EDUCAÇÃO**

**RONCADOR, 2017**

## AVALIAÇÃO DE MATEMÁTICA

### QUESTÃO 01

MARQUE A ALTERNATIVA COM O NOME DA FIGURA:



- A ( ) CÍRCULO
- B ( ) QUADRADO
- C ( ) TRIANGULO
- D ( ) RETÂNGULO

### QUESTÃO 02

OBSERVE O CARTAZ:

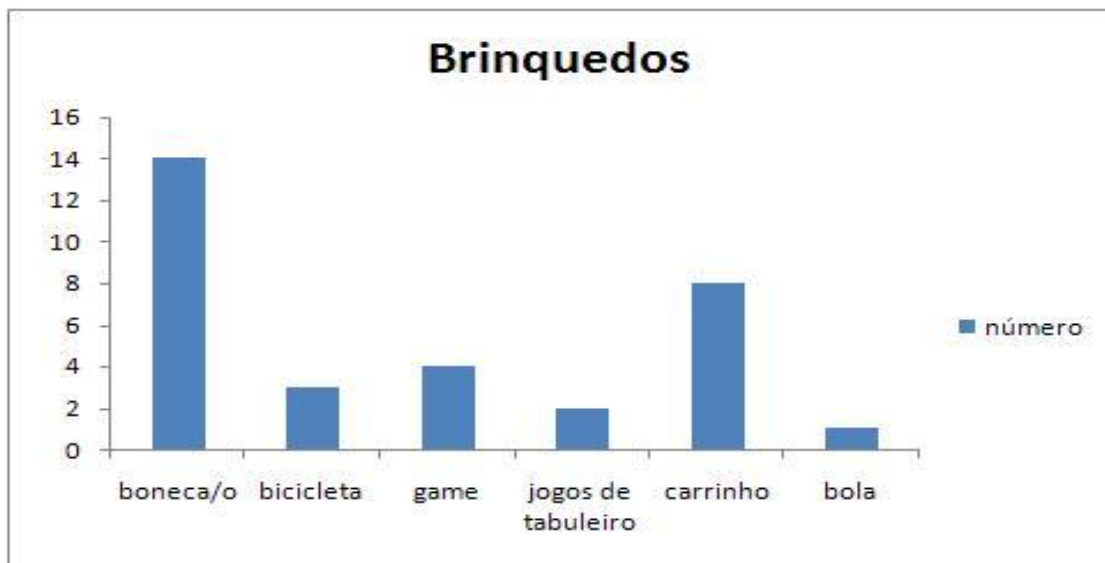


MARQUE A ALTERNATIVA QUE DIA E MÊS ACONTECERÁ O ANIVERSÁRIO DE BRUNA:

- A ( ) 15 DE MARÇO
- B ( ) 18 DE ABRIL
- C ( ) 20 DE MAIO
- D ( ) 10 DE FEVEREIRO

### QUESTÃO 03

O GRÁFICO MOSTRA A PREFERENCIA DAS CRIANÇAS PELO QUAL BRINQUEDO:



A ( ) GAME

B ( ) CARRINHO

C ( ) BOLA

D ( ) BONECA

### QUESTÃO 04

VEJA O NÚMERO DA CASA ONDE FERNANDA MORA:

28

MARQUE A ALTERNATIVA QUE APRESENTA A DECOMPOSIÇÃO DO NÚMERO.

A ( ) 2 +8

B ( ) 20+8

C ( ) 200+8

D ( ) 2000+8

### QUESTÃO 05

LEIA O NUMERAL POR EXTENSO ABAIXO:


CENTO E QUARENTA CINCO

MARQUE A ALTERNATIVA ONDE ESTÁ O NUMERAL QUE VOCÊ LEU:

- A ( ) 34
- B ( ) 145
- C ( ) 100
- D ( ) 130

### QUESTÃO 06

RENATA E MARIA ESTÃO GUARDANDO DINHEIRO PARA SE DIVERTIREM NO PARQUE AQUATICO. ELAS QUEREM LEVAR A MESMA QUANTIA.

RENATA	MARIA
	

QUANTOS REAIS A MAIS RENATA LEVOU?

- A ( ) QUARENTA REAIS
- B ( ) CINQUENTA REAIS
- C ( ) VINTE REAIS
- D ( ) DEZ REAIS

### QUESTÃO 07

A PROFESSORA REALIZOU UMA PESQUISA PARA SABER QUAIS LANCHES OS ALUNOS PREFEREM CONSUMIR NO RECHEIO.

VEJA NA TABELA ABAIXO:

LANCHES	QUANTIDADE DE ALUNOS
BOLO	46
FRUTA	32
BOLACHA	36
PÃO COM RECHEIO	23

QUAL FOI O LANCHE PREFERIDO DOS ALUNOS?

- A ( ) PÃO COM LANCHE
- B ( ) FRUTA
- C ( ) BOLACHA
- D ( ) BOLO

### QUESTÃO 08

OS SEQUINTES NÚMEROS ESTÃO EM ORDEM CRESCENTE ATENDENDO A UMA REGRA. DESCUBRA QUAL É A REGRA E INDIQUE O NÚMERO QUE COMPLETA A SEQUÊNCIA.

125	130	135	140	
-----	-----	-----	-----	--

ESSE NÚMERO É:

- A ( ) 150
- B ( ) 145
- C ( ) 155
- D ( ) 140

**QUESTÃO 09**

**NA LIÇÃO DE CASA, CAMILA TINHA QUE ESCREVER POR EXTENSO:**

72

**AJUDE ELE E ACERTE A QUESTÃO:**

- A ( ) VINTE E DOIS
- B ( ) OITOCENTOS E SETENTA E CINCO
- C ( ) DUZENTOS
- D ( ) SETENTA E DOIS

**QUESTÃO 10**

**VEJA A QUANTIDADE DE TOMATES QUE A MÃE DE RITA USA PARA FAZER O MOLHO DE UMA PIZZA.**



**A MÃE DE RITA VAI FAZER 2 PIZZAS.**

**MARQUE A ALTERNATIVA QUE INDICA O NÚMERO DE TOMATES QUE SERÃO UTILIZADOS AO TODO.**

- A ( ) 3
- B ( ) 6
- C ( ) 9
- C ( ) 12

**BOA SORTE!**

